



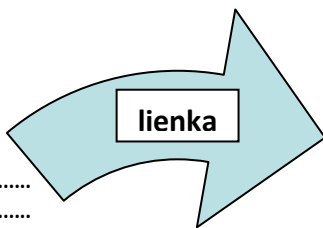
## Pracovní list Živočíchy v okolí ľudských sídel

### 1. Dopln slov do textu:

V záhradách a sadoch nachádzajú živočíchy ..... a ..... Prítomnosť nežiaduceho hmyzu v záhrade zistíš podľa .....

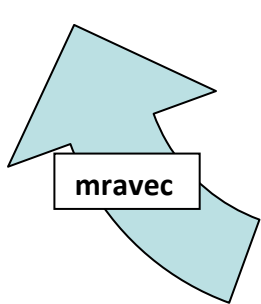
Medzi škodlivý hmyz v záhradách patrí napr. .... , .....  
..... Užitočným hmyzom je napr. ....

### 2. Vysvetli potravinový vzťah medzi I



.....  
.....  
.....  
.....  
.....  
.....  
.....

.....  
.....  
.....  
.....  
.....  
.....  
.....



.....  
.....  
.....  
.....  
.....  
.....



### 3. I

Má každá lienka na krovkách 7 bodiek ?

Nájdi iné druhy lienok, opíš, čím sa odlišujú?

.....  
.....  
.....  
.....  
.....  
.....  
.....

Pokús sa nájsť dôvod na farebnú rôznorodosť lienok.

.....  
.....  
.....  
.....

### 4. Porozmýšľaj!

Je lumčík žltý parazit? Svoje tvrdenie zdôvodni.



.....  
.....



**5. Nesprávnu informáciu v texte podčiarkni:**

Larva vlnačky krvavej sa živí šťavou listov stromov. Obaľovač jablčný je motýľ. Pre lienku sedembodkovú platí nepriamy vývin s premenou úplnou. Larva lienky sa živí rastlinnými šťavami. Hniezda lastovičiek a belorítok vyzerajú rovnako, iné je iba miesto „výstavby“. Húsenica obaľovača jablčného sa zakukľuje v plode. Osa útočná je užitočná.

**6. Porovnaj lastovičku a belorítku:**

LASTOVIČKA	BELORÍTKA
	

**7. I**

Prečo sú holuby v mestách nežiadúce?

.....

Prečo sa holuby zdržiavajú v mestách?

.....

Pokús sa nájsť spôsoby, ako ľudia proti holubom postupujú?

.....

Existujú aj iné vtáky, ktoré ľuďom znepríjemňujú život v mestách?

.....

**8. Čím ľudia môžu / nemali by v zime kŕmiť vtáky:**

.....

.....